

به نام خدا

نام: ، نام خانوادگی: ، نام مدرسه: غیر دولتی پسرانه خواجه نصیر الدین طوسی

(دوره ی اول و دوم)

دوره تحصیلی: ابتدائی، سال تحصیلی: (۱۴۰۱-۱۴۰۰) ، استان گیلان ، شهرستان آستارا، پایه: دوم

موضوع: ریاضی ، نوبت: دوم ، تاریخ امتحان:

۱- جاهای خالی را کامل کنید .

الف- تولد علی ۲۵ تیر است . اگر امروز ۷ تیر باشد روز دیگر تا تولد علی مانده است .

ب- ۶ صدتایی و ۲ ده تایی و ۹ یکی می شود تا

ج- ۵۹ میلی متر یعنی سانتی متر و میلی متر .

د- ۵۴۷ یعنی صدتایی و ده تایی و یکی است .

۲- حاصل جمع و تفریق های زیر را بدست آورید .

جزوه سیپی

$$\begin{array}{r} 674 \\ + 253 \\ \hline \end{array}$$
$$\begin{array}{r} 901 \\ - 724 \\ \hline \end{array}$$

۳- مقایسه کنید و علامت < = > قرار دهید :

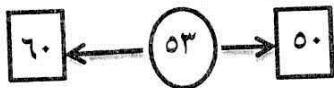
$409 \square 406$

$800 - 100 \square 400 + 300$

$200 + 30 + 4 \square 324$

$187 \square 218$

۴- عدد داخل دایره به کدامیک از اعداد نزدیک است با علامت \times نشان دهید .



۵- رضا ۲۷ گل رز و احمد ۳۶ گل بنفشه دارد. آن ها روی هم چند گل دارند؟

۶- حاصل جمع و تفریق های زیر را با حذف رقم های یکان و دهگان بدست آورید.

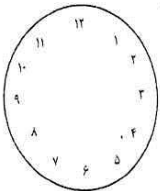
$$782 \rightarrow$$

$$551 \rightarrow$$

$$\begin{array}{r} -433 \\ \hline \end{array} \rightarrow - \underline{\quad}$$

$$\begin{array}{r} +298 \\ \hline \end{array} \rightarrow + \underline{\quad}$$

۷- ساعت چند است؟



۱۵ دقیقه بعد ساعت چند می شود؟

۸- با رقم های ۷ و ۹ چند عدد دو رقمی می توان ساخت؟

۹- جاهای خالی را کامل کنید.

$$\begin{array}{r} \square 7 \\ +43 \\ \hline 8 \square \end{array}$$



$$\begin{array}{r} \square 9 \\ - \quad 2 \square \\ \hline 67 \end{array}$$

۱۰- در یک کیسه ای ۵ مهره آبی و ۴ مهره ی زرد و ۲ مهره ی قرمز وجود دارد، اگر یک مهره را بدون نگاه کردن به داخل کیسه، از آن برداریم:

الف احتمال آمدن کدام مهره کمتر است؟

ب احتمال آمدن کدام مهره بیشتر است؟

۱۱- جاهای خالی را کامل کنید.



..... قسمت از قسمت رنگی است

..... قسمت از قسمت رنگی است .

۱۲- حسین ۲۵۳ تومان پول داشت . او ۱۷۴ تومان از پولش را خرج کرد ، حالا حسین چقدر پول برایش باقی مانده

است ؟

تسلط کم	تسلط متوسط	تسلط خوب	تسلط کامل	اهداف و انتظارات
		◆◆		۱- جمع و تفریق اعداد را می داند .
				۲- می تواند اعداد را مقایسه کند .
				۳- می تواند تقریب بزند .
				۴- تبدیل واحدها را می داند .
			◆◆	۵- مسائل مربوط به جمع و تفریق را به راحتی می تواند حل کند .
				۶- اعداد را می شناسد و اعداد دو رقمی را می تواند بسازد .
				۷- مفهوم احتمال را به خوبی درک کرده است .
				۸- مفهوم کسر و قسمت بندی را به خوبی درک کرده است .
				۹- عملکرد ساعت را می داند و براحتی به سوالاتش جواب می دهد .